


إجابات جميع الأسئلة الواردة في كتاب الكيمياء  
وكتاب الأنشطة والتجارب العملية  
للسف التاسع – الفصل الدراسي الأول  
الطبعة الأولى 2023م

## Atom Structure الوحدة الأولى (1) بنية الذرة

### الدرس الأول: مكونات الذرة



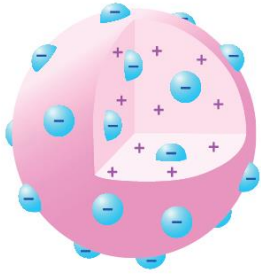
Dalton

صفحة 11 : أتتحقق:

الذرة جسيم كروي متناه في الصغر لا يمكن تجزئته إلى أجزاء أصغر منه.

صفحة 11 : أتتحقق:

أن للمواد طبيعة كهربائية، أي أنها تحتوي على أجسام مشحونة.



صفحة 15 : أتتحقق:

نموذج تظهر فيه الذرة على شكل كرة متجانسة من الشحنات الموجبة، مغروس فيها عدد من

الإلكترونات سالبة الشحنة، تؤدي إلى أن تكون الشحنة الكلية للذرة متعادلة كهربائياً.

صفحة 17 : أتتحقق:

- اعتبر نموذج رذرفورد أن الذرة لها نواة صغيرة جداً مشحونة بشحنة موجبة تتركز فيها كتلة الذرة وتدور حول النواة الإلكترونات سالبة الشحنة، وأن معظم حجم الذرة فراغ.
- وذلك لأن معظم حجم الذرة فراغ تمر خلاله معظم جسيمات ألفا دون ان تعاني انحراف في مسارها.

صفحة 18 : أتتحقق:

عناصر يكون لذراتها العدد الذري نفسه أي تحتوي أنويتها على نفس العدد من البروتونات، ولكنها تختلف في العدد الكتلي لاختلاف عدد النيوترونات في أنويتها.

صفحة 19 : مراجعة الدرس

1- يكمن دور التجارب العملية في اكتشاف مكونات الذرة والتحقق من وجودها وأماكن توزيعها في الذرة.

2- أ) النموذج الذري: تمثيل تخطيطي للجسيمات التي تتكون منها الذرة وأماكن وجودها.

ب) النظائر المشعة : ذرات بعض نظائر العناصر لها القدرة على اطلاق الإشعاعات بصورة تلقائية.

3- أفسر ما يلي :

أ) لأن هذه الأشعة عبارة عن جسيمات متناهية في الصغر تحمل شحنات سالبة تتحرك بسرعة عالية جداً، أي انها ذات طبيعة كهربائية تتأثر بالمجال المغناطيسي والمجال الكهربائي.

ب) لأن تجارب التفريغ الكهربائي وتجارب التحليل الكهربائي أثبتت ان الذرة تحتوي على جسيمات صغيرة جداً تحمل شحنة سالبة.

-4

النموذج	مكونات الذرة	أماكن وجودها
ثومسون	تحتوي جسيمات موجبة الشحنة واخرى سالبة.	كرة متجانسة موجبة الشحنة تنغمس فيها جسيمات سالبة الشحنة.
رذرفورد	تحتوي البروتونات والنيوترونات والالكترونات.	البروتونات والنيوترونات في نواة الذرة، والالكترونات في الفراغ المحيط بالنواة.

5- أشارت نتائج تجارب التحليل الكهربائي الى وجود جسيمات صغيرة جدا في الذرة تحمل شحنة كهربائية سالبة اطلق عليها لاحقاً اسم الالكترونات.

-6

الجسيم	البروتونات	النيوترونات	الالكترونات
الشحنة	موجبة (1+)	متعادلة (0)	سالبة (1-)

-7

النظير	عدد البروتونات	النيوترونات	الالكترونات
Cu- 63	29	34	29
Cu -65	29	36	29

## الدرسُ الثاني: التوزيع الإلكتروني والجدول الدوري

صفحة 23: أتحقق:

${}_{15}\text{P}$ : 2, 8, 5

${}_{31}\text{Ga}$ : 2, 8, 18, 3

صفحة 25: أتحقق:

- عنصر يقع في الدورة الثالثة والمجموعة 4A في الجدول الدوري:

X : 2, 8, 4

- عنصر يقع في الدورة الرابعة والمجموعة 5A في الجدول الدوري.

Y: 2, 8, 18, 5

صفحة 27: أتحقق:

الفلزات (يسار الجدول): يزداد نشاطها الكيميائي بالاتجاه من الأعلى إلى الأسفل في المجموعة الواحدة بزيادة حجم ذراتها، وتصبح إلكترونات المستوى الخارجي أبعد عن النواة مما يسهل فقد النواة للإلكترونات وتكوين أيونات موجبة في مركباتها.

اللافلزات: يقل نشاطها الكيميائي بالاتجاه من الأعلى إلى الأسفل في المجموعة الواحدة بزيادة حجم ذراتها، وتصبح إلكترونات المستوى الخارجي أبعد عن النواة مما يقلل من جذب النواة للإلكترونات وتكوين أيونات سالبة في مركباتها.

صفحة 34: أتحقق:

1- لأن المستوى الخارجي لذراتها يحتوي إلكترونين يسهل فقدهما وتكوين أيونات ثنائية موجبة في مركباتها ولذلك فهي تتشابه في خصائصها.

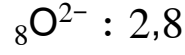
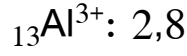
2- بسبب زيادة عدد إلكترونات المستوى الخارجي ونقصان حجوم الذرات؛ حيث تكون الذرات على يسار

الجدول أكثر ميلا لفقد الإلكترونات ويقل هذا الميل تدريجيا بالاتجاه من اليسار إلى اليمين في الدورة

الواحدة ويزداد الميل لكسب الإلكترونات وبالتالي تفقد الذرات خصائصها الفلزية وتكتسب خصائص

لافلزية.

صفحة 37 أتحقق:



صفحة 37 أفكر:

العدد الذري للعنصر 15

### مراجعة الدرس

صفحة 38

1- يدل عدد مستويات الطاقة في التوزيع الإلكتروني على رقم الدورة التي يوجد فيها العنصر، كما يدل عدد إلكترونات المستوى الخارجي على رقم مجموعة العنصر.

-2

- مستوى الطاقة : منطقة تحيط بالنواة لها نصف قطرٍ وطاقةً محدّان، يزدادُ كلُّ منهما بزيادة بُعدهِ عن النواة، ويتّسعُ كلُّ مُستوىٍ لعددٍ محددٍ منَ الإلكترونات.

- الدورة : السطر الأفقي في الجدول الدوري، وتشير إلى عدد مستويات الطاقة لذرة العنصر.

- الهالوجين: عناصرُ المجموعة السابعة في الجدولِ الدوريّ، وهي من مكونات الأملاح.

-3

أ- 2 , 3

ب- 2, 8, 18, 3

ج- 2, 6

د- 2, 8, 18, 4

-4

أ ( 5

ب) الدورة الثانية، المجموعة الخامسة (5A) .

ج) شحنة الأيون -3 وتوزيعه الإلكتروني:  ${}_{7}\text{N}^{3-}: 2, 8$

- 5- أ- لأن ذراتها مستقرة كيميائيًا فلا تكسب الإلكترونات أو تفقدها.  
ب- لأنها تحتوي على خمسة إلكترونات في المستوى الخارجي لذراتها فتكتسب ثلاث إلكترونات في تفاعلاتها ليصبح مستواها الخارجي ممتلئًا بالإلكترونات وتصبح أكثر استقرارًا.

6- أ) 19

- ب) لديها أربع مستويات من الطاقة يحتوى المستوى الخارجي فيها على إلكترون واحد.  
ج) شحنته  $1+$  وتوزيعه الإلكتروني:  $19 K^{1+} : 2, 8, 8$

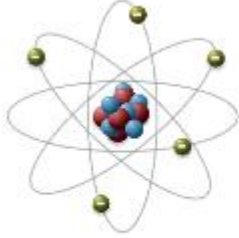
- 7- تقل حجوم الذرات بزيادة العدد الذري في الدورة الواحدة بالاتجاه من اليسار الى اليمين.

- 8 - العنصر الأصغر حجما Cl.

- 9 - العنصر الأكثر نشاطا في كل مجموعة من العناصر الآتية:

(Na, Li)	(Ca, Ba)	(N,O)	(Cl,Br)	(Al, Mg)	أزواج العناصر
Na	Ba	O	Cl	Mg	العنصر الأتشط

## مراجعة الوحدة صفحة 40



رنر فورد



ثومسون



دالتون

(1)

الذرة لها فواة صغيرة جداً مشحونة بشحنة موجبة، تدور حولها الإلكترونات سالبة الشحنة، وأن معظم حجم الفوة فواغ.

الذرة كوة متجانسة من الشحنات الموجبة، مغروس فيها عدد من الإلكترونات سالبة الشحنة، تؤدي إلى أن تكون الشحنة الكلية للفوة متعادلة كهربائياً.

الفوات غير قابلة للتجزئة.

(2)

- أ. الغازات النبيلة: عناصرٌ توجدُ في الطبيعة على شكل ذراتٍ في الحالة الغازية، يكونُ المستوى الخارجيُّ لذراتها ممتلئاً بالإلكترونات؛ أو يحتوي على ثمانية إلكترونات.
- ب. الدورية: تغير خصائص العناصر بشكل منتظم بالاتجاه من اليسار إلى اليمين في الدورة الواحدة، ومن أعلى إلى أسفل في المجموعة.

(3)

مكونات الذرة	الشحنة	الكتلة النسبية	موقعها في الجدول
البروتونات	1+	1	في النواة
النيوترونات	0	1	في النواة
الإلكترونات	1-	1/1840	حول النواة

4) أفسر ما يلي :

أ) لأن نظائر العنصر الواحد لها العدد الذري نفسه فنتشابه في خصائصها الكيميائية .

ب) مرور عدد كبير من جسيمات ألفا خلال صفيحة رقيقة من الذهب، بسبب أن معظم حجم الذرة فراغ تمر منه الأشعة بدون ان تغير مسارها، واما ارتداد جزء قليل جداً بسبب إن النواة الموجبة الشحنة صغيرة جداً وتتركز فيها كتلة الذرة فارتدت جسيمات ألفا مباشرة عند اصطدامها فيها.

ج) بناءً على نموذج ثومسون يفترض أن الشحنة الموجبة موزعة بانتظام في كامل الذرة، إلا أن تجارب رذرفورد اثبتت ان الشحنة الموجبة تتركز في مركز الذرة (النواة) وان معظم حجم الذرة فراغ.

د) لأنها تمتلك نفس عدد الالكترونات في المستوى الخارجي لذراتها.

(5)

نظائر الأكسجين	عدد البروتونات	عدد النيوترونات	عدد الالكترونات
${}^8\text{O}^{16}$	8	8	8
${}^8\text{O}^{17}$	8	9	8
${}^8\text{O}^{18}$	8	10	8

(6)

أ	ب	ج	د	هـ	و	ز
E	L , M	R	Q	X	Z	X

(ح)

Z: 2, 8, 8, 1 , W: 2, 8, 4 , R: 2, 8, 18, 6 , M: 2, 8,8

$\text{D}^{3+}$  : 2 ,  $\text{T}^{1-}$  : 2,8,18,8

(7)

9	8	7	6	5	4	3	2	1
ج	أ	د	ج	د	ب	ب	د	ب



## الوحدة الثانية الحموض والقواعد والأملاح

الدرس الأول: خصائص الحموض والقواعد

أتحقق ص 47

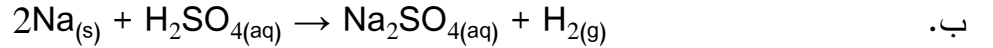


أفكر ص 47

يعد  $\text{NO}_2$  أكسيد حمضيا لأنه أكسيد لافلزي يتفاعل مع الماء منتجا حمض  $\text{HNO}_3$ .

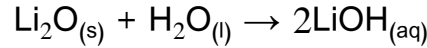
أتحقق ص 49

أ. لأن حمض  $\text{HBr}$  يتأين في الماء منتجا أيونات الهيدروجين  $\text{H}^+$  وأيونات البروميد  $\text{Br}^-$  حرة الحركة تعمل على توصيل التيار الكهربائي.

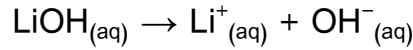


أتحقق ص 50

يعد أكسيد الليثيوم قلويا وذلك لأنه يذوب في الماء منتجا هيدروكسيد الليثيوم  $\text{LiOH}$  حسب المعادلة:

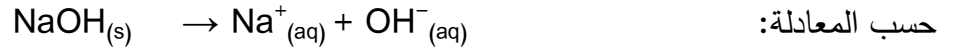


ويتأين هيدروكسيد الليثيوم في الماء حسب المعادلة:



أتحقق ص 51

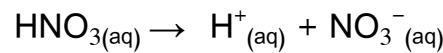
محلول هيدروكسيد الصوديوم  $\text{NaOH}$  موصل للتيار الكهربائي وذلك لأنه يتأين في الماء



وجود أيونات الصوديوم الموجبة وأيونات الهيدروكسيد السالبة حرة الحركة تفسر قدرة محلول  $\text{NaOH}$  على توصيل التيار الكهربائي.

أفكر ص 53

الحمض  $\text{HNO}_3$  حمض قوي يتأين كليا في الماء حسب المعادلة:



أما حمض  $\text{HF}$  فهو حمضا ضعيفا أي يتأين جزئيا في الماء حسب المعادلة:



فعند نفس الظروف نسبة الأيونات حرة الحركة الناتجة عن تأين حمض  $\text{HNO}_3$  أكبر منها في محلول حمض  $\text{HF}$  فتكون قدرة محلول حمض  $\text{HNO}_3$  على توصيل التيار الكهربائي أكبر.

### أتحقق: ص 53

التوصيل الكهربائي لمحلول هيدروكسيد البوتاسيوم KOH أكبر منه لمحلول الأمونيا NH<sub>3</sub> المساوي له في التركيز وذلك لأن KOH قاعدة قوية تتأين كلياً في الماء فيكون تركيز أيونات OH<sup>-</sup> وأيونات K<sup>+</sup> في محلولها كبير، أما محلول الأمونيا NH<sub>3</sub> وهي قاعدة ضعيفة تتأين جزئياً فيكون تركيز أيونات OH<sup>-</sup> وأيونات NH<sub>4</sub><sup>+</sup> في محلولها أقل وبالتالي يكون محلولها أقل قدرة على توصيل التيار الكهربائي.

### أتحقق: ص 54

- ماء البحر
- الخل

### أتحقق: ص 55

يُحدّد الرقم الهيدروجيني لمحلول ما باستخدام الكاشف العامّ عن طريق غمس ورقة الكاشف العام في المحلول ثم مقارنة اللون بدليل الألوان المرفق مع الكاشف وتحديد أقربها إلى اللون الناتج ومنه يتم تقدير الرقم الهيدروجيني للمحلول.

### مراجعة الدرس الأول ص 58

س1

تم تصنيف المواد إلى حمضية وقاعدية بناء على الأيونات الناتجة عن ذوبانها في الماء، فالمادة التي تنتج أيونات الهيدروجين H<sup>+</sup> عند ذوبانها في الماء هي الحموض، والمواد التي تنتج أيونات الهيدروكسيد OH<sup>-</sup> عند ذوبانها في الماء هي القواعد.

س2

- أ. درجة التأين: قدرة الحموض أو القواعد على التأين إلى أيونات موجبة وسالبة، وتساوي نسبة جزيئات الحمض التي تحوّلت إلى أيونات مقارنةً بالجزيئات الكلية له في المحلول.
- ب. الكاشف: المادة التي يتغيّر لونها تبعاً لنوع المحلول الذي توجد فيه
- ج. الرقم الهيدروجيني: مقياس لدرجة حموضة المحلول التي ترتبط بتركيز أيونات الهيدروجين في المحلول.

س3

- أ. الخصائص القاعدية لمحلول أكسيد المغنيسيوم MgO، وذلك لأنه يتفاعل مع الماء مكوناً Mg(OH)<sub>2</sub> الذي يغير لون ورقة تباع الشمس الحمراء إلى الأزرق، كما أنه يتفاعل مع محلول الحمض مكوناً ملح وماء.

ب. وذلك لأنها مواد كاوية وحارقة للجلد وتسبب الضرر للأنسجة سواء أنسجة الجلد أو الأقمشة والورق، وتُسببُ تآكلَ كثيرٍ من المواد، كما أنَّ بعضها سامٌّ.

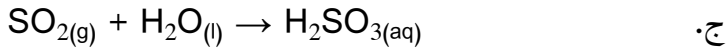
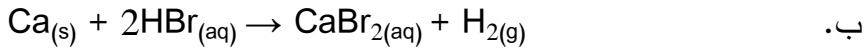
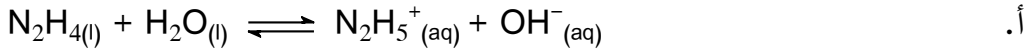
$$pH_A = 14 \quad , \quad pH_B = 9$$

س4

خصائص المحلول A: قاعدي ، القاعدة A قوية

خصائص المحلول B: قاعدي ، القاعدة B أضعف من القاعدة A

س5



س6

أ. أصفر	ب. أزرق	ج. أزرق	د. أ
---------	---------	---------	------

س7

جميع المركبات التي تحتوي على ذرة هيدروجين H أو أكثر هي حموضٌ.

عبارة غير صحيحة، لأن الحموض مواد ينتج عن ذوبانها في الماء أيونات الهيدروجين  $H^+$  وقد لا تحتوي في

تركيبها على هيدروجين مثل غاز  $CO_2$  الذي يكون محلولاً حمضياً في الماء، وكذلك هناك مواد تحتوي على

هيدروجين في تركيبها ومع ذلك ليست حموض مثل الأمونيا  $NH_3$  وهي قاعدة ضعيفة ينتج عن ذوبانها في الماء

أيونات الهيدروكسيد  $OH^-$ ، وهناك مواد أخرى مثل الميثان  $CH_4$  وهو من مكونات الغاز الطبيعي يحتوي على

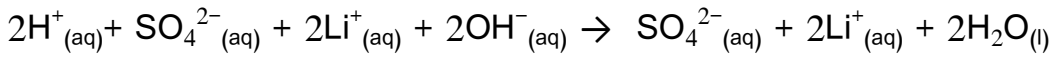
هيدروجين في تركيبه ولكنه لا يذوب في الماء ولا ينتج أيونات الهيدروجين فيه لذلك فهو ليس حمضاً.

الدرس الثاني: تفاعل الحموض والقواعد

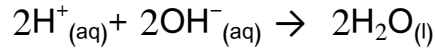
أتحقق صفحة 60:

1.  $\text{HBr} + \text{KOH} \rightarrow \text{KBr} + \text{H}_2\text{O}$
2.  $2\text{HCl} + \text{CaO} \rightarrow \text{CaCl}_2 + \text{H}_2\text{O}$
3.  $2\text{LiOH} + \text{CO}_2 \rightarrow \text{Li}_2\text{CO}_3 + \text{H}_2\text{O}$

أتحقق ص 64



الأيونات المتفرجة:  $\text{Li}^+$  و  $\text{SO}_4^{2-}$



المعادلة الأيونية النهائية:

أفكر ص 65

أ.  $\text{HBr}$

ب.  $\text{CH}_3\text{COOH}$

أتحقق ص 67

صنف الملح	الملح الناتج	القاعدة	الحمض
متعادل	$\text{NaBr}$	$\text{NaOH}$	$\text{HBr}$
قاعدي	$\text{CH}_3\text{COONa}$	$\text{NaOH}$	$\text{CH}_3\text{COOH}$
حمضي	$\text{NH}_4\text{NO}_3$	$\text{NH}_3$	$\text{HNO}_3$

أتحقق ص 69

مؤشرات التفاعل: انطلاق غاز، تغير في اللون، تغير درجة الحرارة، تكوّن راسب

أتحقق صفحة 71:

أ- حمض الفسفوريك: الأسمدة الفوسفاتية، والأعلاف الحيوانية.

ب- هيدروكسيد الصوديوم: صناعة الصابون ومواد التنظيف وصناعة الزجاج والورق.

ج- الأمونيا: الأسمدة النيتروجينية والمطاط .

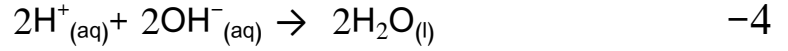
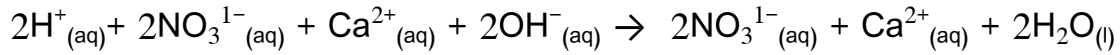
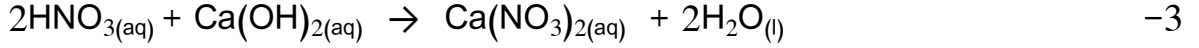
مراجعة الدرس صفحة 72

1- أكتب المعادلة الأيونية كاملة ثم أحدد الأيونات المتفرجة وأحذفها ثم أكتب المعادلة الأيونية النهائية.

-2

- تفاعل التعادل: هو التفاعل بين محلول حمض ومحلول قاعدة فينتج الملح والماء.

- المعادلة الأيونية: المعادلة التي تتضمن الأيونات التي في المحلول المائي.



5- أ-  $\text{H}_3\text{PO}_4$  ب-  $\text{NH}_3$  ج-  $\text{H}_2\text{SO}_4$  د-  $\text{NaOH}$  ه-  $\text{H}_2\text{SO}_4$

6- أ- أكبر من 7 ب- أقل من 7

-7

صيغة الملح	اسم الملح	الحمض المستخدم
LiCl	كلوريد الليثيوم	HCl
MgSO <sub>4</sub>	كبريتات المغنيسيوم	H <sub>2</sub> SO <sub>4</sub>
Na <sub>3</sub> PO <sub>4</sub>	فسفات الصوديوم	H <sub>3</sub> PO <sub>4</sub>
KNO <sub>3</sub>	نترات البوتاسيوم	HNO <sub>3</sub>

8- تغير اللون ، تكون راسب ، تصاعد غاز.

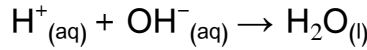
## مراجعة الوحدة ص 74

س 1

المادة	محلول حمضي	محلول قاعدي	محاليل الأملاح
لون تباع الشمس	أحمر	أزرق	أحمر في الحمضي أزرق في القاعدي لا يتغير لونه في المتعادل

س 2

لأنه ينتج عن تأين الحمض في الماء أيونات الهيدروجين  $H^+$  المسؤولة عن الخصائص الحامضية للمحلول، وكذلك ينتج عن تأين القاعدة في الماء أيونات الهيدروكسيد  $OH^-$  المسؤولة عن الخصائص القاعدية للمحلول، وعند تفاعل حمض وقاعدة تتعادل أيونات  $H^+$  مع أيونات  $OH^-$  حسب المعادلة:



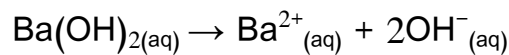
س 3

وجه المقارنة	المادة	الحموض	القواعد
الأيونات الموجبة والسالبة الناتجة عن ذوبانها في الماء.	أيون $H^+$ وأيون سالب آخر	أيون $OH^-$ وأيون موجب آخر	يختلف باختلاف القاعدة.
الرقم الهيدروجيني لمحاليلها.	0 إلى أقل من 7	أكبر من 7 إلى 14	
توصيل محاليلها للتيار الكهربائي.	موصلة	موصلة	

س 4

أ. يعد محلول BaO قلويًا لأن أكسيد الباريوم يذوب في الماء مكونًا هيدروكسيد الباريوم  $Ba(OH)_2$  الذي يتأين

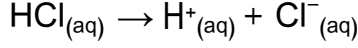
في الماء منتجًا أيون الهيدروكسيد  $OH^-$  حسب المعادلة:



ب. أهمية التحكم في درجة حموضة التربة وذلك لأن بعض النباتات تُفضّل التربة القليلة الحمضية، وبعضها الآخر تُفضّل التربة القليلة القاعدية، ولأن إضافة الأسمدة للتربة قد يؤثر على حموضتها ما يتطلب معالجة التربة

بإضافة مواد تزيد أو تقلل منها، مثل محلول هيدروكسيد الكالسيوم  $\text{Ca(OH)}_2$  الذي يستخدم لمعالجة ومعادلة حموضة التربة الزائدة.

ج. يتأين حمض HCl في الماء حسب المعادلة:



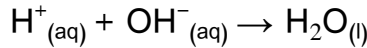
أيونات الهيدروجين مسؤولة عن الصفات الحمضية للمحلول،

كما يتأين NaOH في الماء حسب المعادلة:



وتعد أيونات الهيدروكسيد هي المسؤولة عن الصفات القاعدية للمحلول، وتفاعل كلا المحلولين يؤدي إلى تعادل

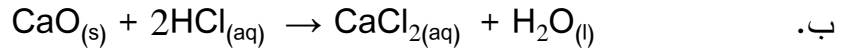
أيونات الهيدروجين الموجبة وأيونات الهيدروكسيد السالبة حسب المعادلة:



ما يؤدي إلى اختفاء الصفات الحمضية والقاعدية ويصبح المحلول متعادلا فلا يغير لون ورقة تباع الشمس الحمراء أو الزرقاء.

س5

أ. أكسيد الكالسيوم CaO: أكسيد قاعدي، كلوريد الكالسيوم  $\text{CaCl}_2$ : ملح متعادل.



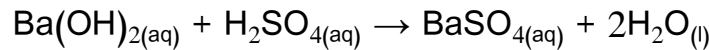
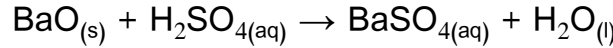
ب.

س6

أ. الحمض: حمض الكبريتيك  $\text{H}_2\text{SO}_4$

ب. القاعدة: أكسيد الباريوم BaO أو هيدروكسيد الباريوم  $\text{Ba(OH)}_2$ .

ج. معادلة التفاعل:



د.

س7

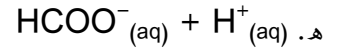
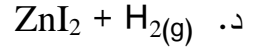
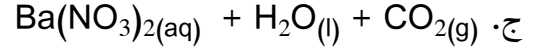
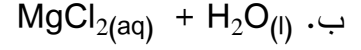
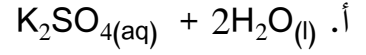
أ. الحمض الذي يتأين جزئياً: HF

ب. الحمض الأسرع تفاعلا مع فلز الألمنيوم:  $\text{HNO}_3$

ج. الحمض الذي لمحلوله أعلى pH: HF

د. الحمض الذي تركيز أيونات الهيدروجين فيه أكبر:  $\text{HNO}_3$

س8



س9

X	Y	Z	A	B	C	D	رمز المحلول
حمضي	قاعدي	قاعدي	حمضي	متعادل	حمضي	قاعدي	طبيعة المحلول

ب. الحمض الأضعف: A ، القاعدة الأضعف: Y

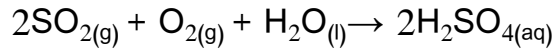
ج. Z

د. B

هـ. X، حيث Y تمثل قاعدة ضعيفة و C تمثل حمض أضعف من X ، لذلك درجة تأين X أكبر وبالتالي تركيز أيونات  $H^+$  والأيونات السالبة حرة الحركة الناتجة عن تأينه أكبر وبالتالي يكون محلوله أكثر توصيلاً للتيار الكهربائي.

س10

يَتَّحِدُ غازُ ثاني أكسيد الكبريت مع الماءِ والأكسجينِ مكونًا حمضَ الكبريتيك، وَفَقَ المعادلةِ الآتية:



س11

محلل الملح	pH	لون ورقة تباع الشمس
متعادل	7	لا يتغير اللون
حمضي	أقل من 7	أحمر
قاعدي	أكبر من 7	أزرق



س12

د .5	أ .4	د .3	أ .2	ب .1
ج .10	أ .9	د .8	ج .7	ب .6

## إجابات كتاب الأنشطة والتجارب العملية

### الوحدة الأولى: بنية الذرة

#### أسئلة الأنشطة والتجارب:

#### التجربة الاستهلاكية:

- (1) حسب ما تظهر في التجربة.
- (2) اختلاف نوع الغاز، والتوزيع الإلكتروني لذرته.

#### التجربة الأولى: التحليل الكهربائي لمحلول كلوريد النحاس

- (1) تتحول ايونات النحاس الموجبة  $Cu^{2+}$  الى ذرات نحاس Cu تترسب عند قطب الكربون المتصل بالقطب السالب للبطارية. أي انها تكتسب شحنات سالبة تؤدي الى تعادلها.
- (2) تتحول ايونات الكلوريد السالبة  $Cl^-$  الى جزيئات الكلور  $Cl_2$  تتصاعد على شكل غاز عند قطب الكربون المتصل بالقطب الموجب للبطارية. أي انها تفقد شحنات سالبة ويؤدي ذلك الى تعادلها.
- (3) تتحرك الأيونات السالبة نحو القطب الموجب (المصعد) لتفقد إلكترونات بمقدار شحنتها، وتتحرك الإلكترونات عبر الأسلاك باتجاه القطب السالب (المهبط) لتكتسبها الأيونات الموجبة بمقدار شحنتها.

#### التجربة الثانية: التفريغ الكهربائي

- (1) تتأين ذرات الغاز في أنبوب التفريغ بفعل التيار الكهربائي، وتتحرك الإلكترونات متجهة نحو المصعد مكونة حزمة من الأشعة بين القطبين.
- (2) تتحرف مبعدة عن مسارها عند التأثير عليها بمجال مغناطيسي.
- (3) تسير في خطوط مستقيمة، تحمل شحنة سالبة.

#### التجربة الثالثة: نموذج استخدامات العناصر الممثلة

- (1) تتشابه استخدامات عناصر المجموعة السابعة وذلك ان ذراتها تكتسب الكترونا واحدا خلال تفاعلاتها وتكون مركبات متشابهة.
- (2) تتشابه استخدامات عناصر المجموعة الأولى وذلك ان ذراتها تفقد الكترونا واحدا خلال تفاعلاتها وتكون مركبات متشابهة.

(3) تمتاز عناصر الغازات النبيلة بانها مستقرة كيميائيا وتوجد على شكل ذرات منفردة، وتستخدم في صناعة انابيب الإضاءة وتعبئة مناطق وبالنونات الرصد الجوي.

### التجربة الاثرانية: خصائص الأشعة المهبطية

- 1) تتحرف الأشعة مبعده عن مسارها بتأثير المجال المغناطيسي. واستنتج من ذلك انها ذات طبيعة كهربائية.
- 2) تمتلك الأشعة طاقة حرارية ما يسبب تسخين الحاجز الفلزي وتوجهه عند سقوطها عليه.
- 3) يتكون الظل ناحية القطب الموجب (المصعد) ، واستنتج انها تتحرك من المهبط نحو المصعد. أي انها تحمل شحنة سالبة.
- 4) تمتلك الأشعة المهبطية طاقة حركية تسبب تحريك (دوران) الدولاب عند سقوطها عليه.

### إجابات أسئلة تحاكي نماذج TIMSS

السؤال الأول: النموذج ب

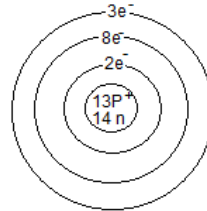
السؤال الثاني

أ ( 27

ب) 14

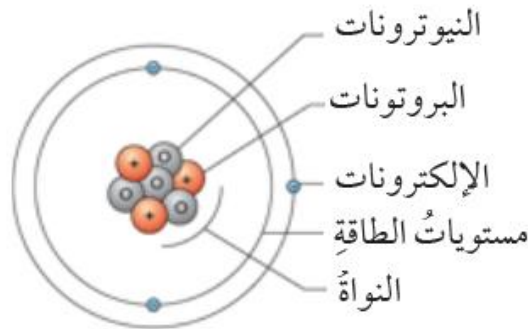
ج) الالكترون

د)



السؤال الثالث: ملاحظة.

السؤال الرابع:



## الوحدة الثانية: الحموض والقواعد والأملاح

### التجربة الاستهلاكية

التحليل والاستنتاج:

-1

- المحاليل الحمضية: عصير الليمون، الخل، رب البندورة، اللبن.  
المحاليل القاعدية: المنظف الصابوني، منظف الزجاج، مبيض الغسيل، منظف الأفران.  
2- ترتيب المحاليل الحمضية وفق تزايد الرقم الهيدروجيني: الخل ← عصير الليمون ← رب البندورة ← اللبن.  
3- ترتيب المحاليل القاعدية وفق تزايد الرقم الهيدروجيني: منظف الزجاج ← المنظف الصابوني ← مبيض الغسيل ← منظف الأفران. (يراعى عند الترتيب القيم التي حصل عليها الطالب عمليا).  
4- المتوقع أن تكون خصائص محلول الخل أكثر حمضية.  
5- المتوقع أن تكون خصائص محلول منظف الأفران أكثر قاعدية.

### التجربة (1): قوة الحموض والقواعد

التحليل والاستنتاج:

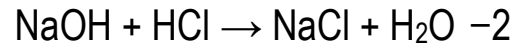
- 1- الحمض الأقوى: HCl ، القاعدة الأقوى: NaOH.  
2- حمض HCl أقوى من حمض  $\text{CH}_3\text{COOH}$ ، وبالتالي فإن درجة تأينه أكبر إذ أنه يتأين كلياً، فيكون تركيز أيونات الهيدروجين  $\text{H}^+$  وأيونات  $\text{Cl}^-$  حرة الحركة في محلوله أكبر، وهو ما يجعله أكثر قدرة على توصيل التيار الكهربائي من محلول حمض  $\text{CH}_3\text{COOH}$  الذي يتأين بدرجة أقل إذ أنه يتأين جزئياً، فيكون تركيز أيونات الهيدروجين  $\text{H}^+$  وأيونات  $\text{CH}_3\text{COO}^-$  حرة الحركة في محلوله أقل، وبالتالي يكون محلوله أقل قدرة على توصيل التيار الكهربائي.  
3- NaOH قاعدة أقوى من الأمونيا  $\text{NH}_3$  أي أنها تتأين بدرجة أكبر (تتأين كلياً) لذلك يكون تركيز أيونات الهيدروكسيد  $\text{OH}^-$  وأيونات  $\text{Na}^+$  حرة الحركة في محلولها أكبر وهو ما يجعله أكثر

- قدرة على توصيل التيار الكهربائي. أما الأمونيا  $NH_3$  فهي أضعف كقاعدة إذ أنها تتأين جزئياً، فيكون تركيز أيونات الهيدروكسيد  $OH^-$  وأيونات  $NH_4^+$  حرة الحركة في محلولها أقل، وهو ما يجعله أقل قدرة على توصيل التيار الكهربائي.
- 4- كلما كان الحمض أقوى كان الرقم الهيدروجيني pH لمحلوله أقل.
- 5- كلما كانت القاعدة أقوى كان الرقم الهيدروجيني pH لمحلولها أكبر.
- 6- تصاعد غاز الهيدروجين في الحالتين.
- 7- الحمض الأقوى يتفاعل بسرعة أكبر مع فلز الخارصين، أي أن تفاعله يستغرق زمناً أقل عند تساوي التركيز.

### التجربة (2): تفاعل تعادل حمض وقاعدة

التحليل والاستنتاج:

- 1- درجة الحرارة قبل خلطهما أقل منها بعد الخلط، مما يدل على حدوث تفاعل صاحبه تغير درجة الحرارة.



- 3- محلول  $NaOH < 7$  ، محلول  $HCl > 7$  ، محلول  $NaCl = 7$

### التجربة (3): قياس الرقم الهيدروجيني لمحاليل بعض الأملاح

التحليل والاستنتاج:

-1

المحلول	الخصائص
$NH_4Cl$	حمضي
$NaCl$	متعادل
$CH_3COONa$	قاعدي

- 2- الرقم الهيدروجيني pH لمحلول  $NH_4Cl$  أقل من 7، الرقم الهيدروجيني pH لمحلول  $NaCl$  (7)، الرقم الهيدروجيني pH لمحلول  $CH_3COONa$  أكبر من 7.

## التجربة الاثرية: الخصائص الحمضية والقاعدية لأكاسيد بعض العناصر

التحليل والاستنتاج:

1- أكسيد المغنيسيوم  $MgO$ .

2- ثاني أكسيد الكربون  $CO_2$ .

3- يذوب غاز  $CO_2$  في الماء مكونا حمض الكربونيك  $H_2CO_3$  الذي يتأين في الماء منتجا أيون

الهيدروجين  $H^+$  وأيون  $HCO_3^-$  لذلك يغير لون ورقة تباع الشمس الزرقاء إلى الأحمر. أما أكسيد

المغنسيوم  $MgO$  الناتج عن حرق شريط المغنيسيوم فعند إذابته في الماء يكون هيدروكسيد

المغنسيوم  $Mg(OH)_2$  فيحول لون ورقة تباع الشمس الحمراء إلى الأزرق.

4-  $CO_2$  أكسيد لافلزي،  $MgO$  أكسيد فلزي.

### إجابات أسئلة تحاكي نماذج TIMSS

س1

HC > HB > HA -1

HC -2

HB -3

س2

1. عصير البرتقال أكثر حموضة من رب البندورة.

2. عصير البرتقال.

3. حموضة محلول pH له 3 تزيد 100 ضعف عن محلول pH له 5.

س3

أ. ارتفاع درجة حرارة المحلول في الأنبوب أو انخفاضها.

ب. تصاعد غاز.

ت. تغير في اللون.

ث. تكون راسب.

س4

الاحتمال الأول: أن يكون المحلول متعادلاً.

الاحتمال الثاني: أن يكون المحلول قاعدياً.

يتغير لون ورقة تباع الشمس من الأزرق إلى الأحمر في المحلول الحمضي، وبما أنه لم يتغير

فيحتمل أن يكون المحلول متعادلاً أو قاعدي التأثير.